

ШИФР 9-06

Олимпиадная работа
муниципального этапа всероссийской олимпиады школьников
по ОБЗР

учащейся 9 класса

муниципального бюджетного общеобразовательного учреждения
«Средняя общеобразовательная школа №12 с углубленным изучением отдельных
предметов»

Бондаренко Евы Романовны

Педагог-наставник:
учитель ОБЗР

МБОУ «Средняя общеобразовательная школа №12
с углубленным изучением отдельных предметов»
Петров Александр Сергеевич

« ____ » _____ 2025 г

ТЕОРЕТИЧЕСКИЙ ТУР**9 класс**

Впишите свой код/шифр		

Уважаемый участник Олимпиады!

При выполнении заданий теоретического тура Вам предстоит выполнить определенную работу, которую лучше организовать следующим образом:

– не спеша, внимательно прочитайте задание и входящие в него вопросы или ситуации;

– определите, наиболее верный и полный ответ;

– если вы отвечаете на теоретический вопрос, обдумайте и сформулируйте конкретный ответ только на поставленный вопрос;

– если вы отвечаете на предложенную ситуацию, обдумайте порядок и последовательность действий по предложенной ситуации и впишите ответы в схему в той последовательности, которую вы определили, при этом ответ должен быть кратким, но содержать необходимую информацию;

– если вы отвечаете на задание, связанное с заполнением таблицы, не старайтесь детализировать информацию, вписывайте только те сведения или данные, которые указаны в вопросе или верхних графах;

– после выполнения всех предложенных заданий еще раз удостоверьтесь в правильности выбранных вами ответов и решений;

Задание теоретического тура по данной предметной секции считается выполненным, если Вы вовремя сдаете его членам жюри. Время выполнения задания составляет 180 минут.

Желаем вам успеха!

Оценка за Теоретический блок 30 баллов (максимальная 80 баллов)

Оценка за Блок тестирования 8 баллов (максимальная 20 баллов)

Оценка результата участника за ТЕОРЕТИЧЕСКИЙ ТУР 40 баллов
(максимально за теоретический тур 100 баллов)

гипотеза), которая указывает на характер и масштаб воздействия землетрясения на поверхность земли, людей, животных, а также

займитенаиболее безопасное место (на удалении от окон, в проемах внутреннихкапитальных стен, в углах между стенами, лучше под кроватью, столамиили другими устойчивыми прочными предметами(6)).

За первым толчком, как правило, следуют _____(7). Используйтезатишье для выхода из дома. Берегитесь обрушения кусков штукатурки,стекол, кирпичей, арматуры и др.

На улице держитесь подальше от зданий, линий электропередач,столбов, трубопроводов, мостов и др.

Если землетрясение застало в _____(8) – остановитесь (лучше наоткрытом месте), откройте двери, но не покидайте салон автомобиля.

Вариант ответа:

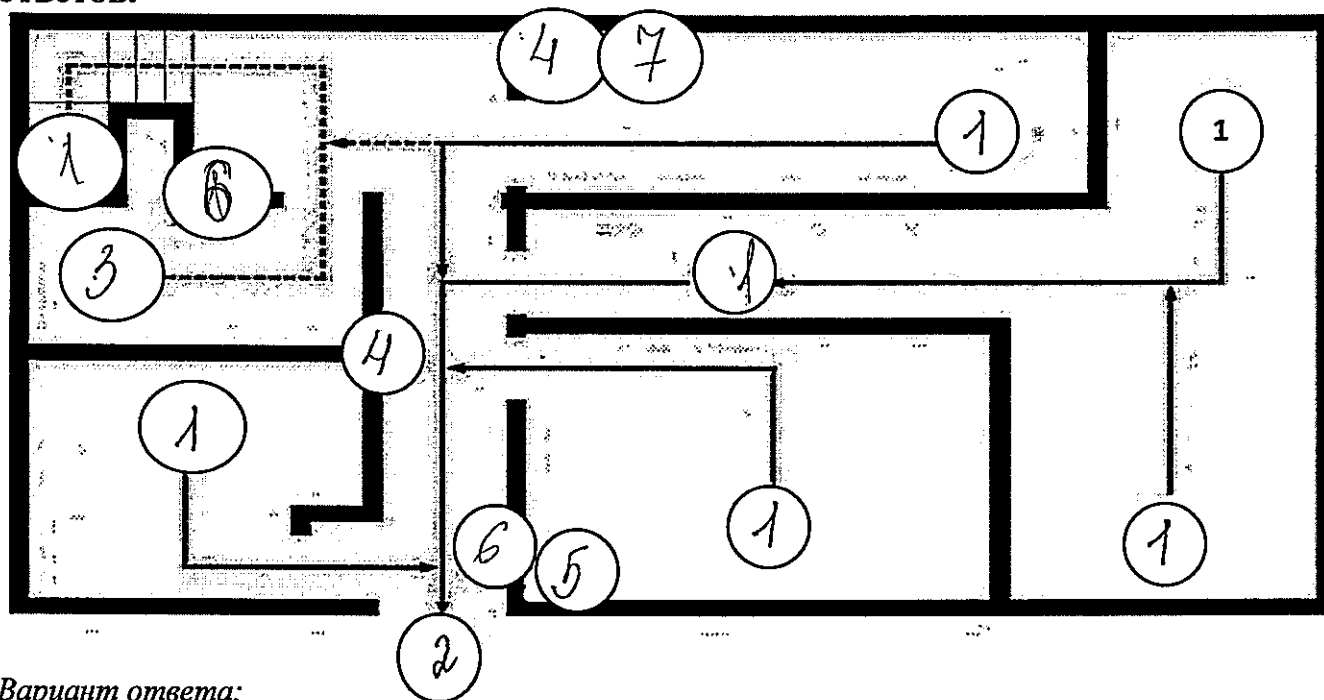
1	Ватков
2	20
3	Землетрясение
4	Лидеры
5	Второй
6	Предметами
7	Второй толчок
8	Автомобиль

Оценочные баллы: максимально – 20 баллов;





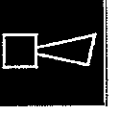

фактически набранные баллы за задание – 11.

Подписи членов жюри _____

Задание 2. На схеме отсутствуют эвакуационные знаки и знаки пожарной безопасности. Заполните таблицу, вписав цифры, соответствующие знакам, размещенным в указанных данными цифрами местах. Допускается 15 ответов.



Вариант ответа:

		ЗАПАСНЫЙ ВЫХОД				
1-выход из помещения (поднимаю)	2-выход из помещения	3-запасной выход	4	5	6	7

Оценочные баллы: максимально— 15 баллов;

фактически набранные баллы за задание - 0.

Подписи членов жюри

Задание 3. К наиболее опасным террористическим актам можно отнести:

Вариант ответа:

Террористическими актами:

- + 1) Террористы окружили общественное место (школу, детский сад, банк, рынок, больницу, парк, детский садик)
- 2) Террористы окружили здание больницы
- + 3) Заложили взрывное устройство в общественном месте
- 4) Заложили взрывное устройство в общественном месте (но это оказалось не взрывом)
- 5) Террористы напали на улице

Оценочные баллы: максимально— 14 баллов;

фактически набранные баллы за задание - 2.

Подписи членов жюри

Задание 4. Выполните задание:

А. Заполните таблицу указав тип возможных заболеваний в туристском походе:

Вариант ответа:

Вид опасности	Тип заболевания
---------------	-----------------

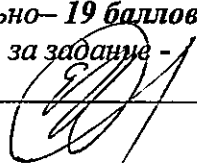

Неблагоприятные метеорологические условия	Возможность простудиться град, выпадение снега-ливня	+
высокогорье	Боль головы, головокружение, тошнота	+
Яркий солнечный свет	Сильный жар, Забывание вещей	—
Отличный от привычного режима дня, питания	Тошнота, Боль головы	—
Длительное физическое напряжение, трудности при передвижении по пересечённой местности с тяжёлым рюкзаком	Усталость, болевая нагрузка на тело, Жажда, перенапряжение	—
Укусы насекомых	Воспаление(ш) или зуд	—

Б. Определите перечень личного снаряжения при подготовке к туристскому походу, поставив знак «+» в соответствующие ячейки.:

Пеший туристский поход	Перечень личного снаряжения, которые обеспечивают безопасность туриста в походе:	Водный туристский поход
+	Аптечка.	+
+	Налобный фонарик	+
+	Спальный мешок	—
+	Специальная обувь	+
+	Туристический коврик и сидуха	—
+	Защитная каска	+
+	Солнцезащитные очки и треккинговые палки	—
+	Посуда для приёма пищи и бутылка для воды	+
+	Спасательный жилет	+
+	Мембранная куртка	+
+	Треккинговые ботинки	—
+	Гидрокостюм	+
+	Гидромешок	+

Оценочные баллы: максимально — 19 баллов;
фактически набранные баллы за задание — 8.

Подписи членов жюри

Задание 5. Укажите способы временной остановки наружных кровотечений, которые применяются при оказании первой помощи в условиях мирного времени (согласно Порядку оказания первой помощи) — столбец А и в

условиях ведения военных (боевых) действий (без дополнительных мероприятий первой помощи, которые могут выполнять лица, прошедшие подготовку по программам Минобороны) – столбец Б.


Вариант ответа:

А	Способы временной остановки наружных кровотечений	Б
—	Максимальное сгибание конечности в суставе	+
+ +	Наложение кровоостанавливающего жгута	+ +
—	Применение местного гемостатического средства	+ +
—	Пальцевое прижатие артерии	+ +
+ +	Прямое давление на рану	+ +
+ +	Наложение давящей повязки на рану	+ +

Оценочные баллы: максимально – 9 баллов;

фактически набранные баллы за задание - 9

Подписи членов жюри



Задание 6. Перечислите три основных причины чрезмерного увеличения веса человека:

Вариант ответа:

Вариант ответа:
1) Гормональный зббй в организме ~~Может быть~~ ~~Повышен~~ ~~не~~
целаретвы) это часто приводит к чередующемуся увеличению
веса 2) Заболевания

Оценочные баллы: максимально—3 балла;




фактически набранные баллы за задание -

Подписи членов жюри

Баллы за задания Теоретического блока						
№ задания	1	2	3	4	5	6
Кол-во баллов	11	3	24	8	9	0

Подпись председателя жюри

Подписи членов жюри

сору ³²   

ЗАДАНИЯ ТЕОРЕТИЧЕСКОГО ТУРА (Блок тестирования)

№ п/п	Тестовые задания	Макс. балл	Кол-во набранных баллов
1	2	3	4
Определите все правильные ответы			
1.	<p>После проведения оценки обстановки и обеспечения безопасных условий для оказания первой помощи выполняется следующее мероприятие первой помощи:</p> <p>аа) определение наличия признаков жизни у пострадавшего;</p> <p><input checked="" type="radio"/> б) проведение подробного осмотра и опроса пострадавшего для выявления состояний, угрожающих его жизни и здоровью;</p> <p>в) проведение обзорного осмотра пострадавшего для выявления продолжающегося наружного кровотечения, его временная остановка (при наличии);</p> <p>г) оказание помощи пострадавшему в принятии лекарственных препаратов</p>	2	—
2.	<p>Верны ли следующие суждения? Восстановление проходимости дыхательных путей при оказании первой помощи рекомендуется выполнять:</p> <p>А. посредством запрокидывания головы с подъемом подбородка</p> <p>Б. посредством выдвижения нижней челюсти</p> <p><input checked="" type="radio"/> а) верно только А;</p> <p>б) верно только Б;</p> <p>в) верны оба суждения;</p> <p>г) оба суждения неверны</p>	2	2
3.	<p>Наиболее высоким коэффициентом ослабления радиации в жилом пятиэтажном каменном здании обладает:</p> <p>а) 1-й этаж;</p> <p>б) 2-й этаж;</p> <p><input checked="" type="radio"/> в) 3-й этаж;</p> <p>г) 4-й этаж</p>	2	—
4	<p>К отравляющим веществам раздражающего действия, временно выводящим из строя, относятся:</p> <p><input checked="" type="radio"/> а) Си-эс;</p> <p>б) Люизит;</p>	2	2

	<input checked="" type="radio"/> б) Би-зет; <input type="radio"/> г) Ви-икс		
5	По основному назначению топографические карты масштаба 1:25 000 относятся: <input type="radio"/> а) к тактическим; <input type="radio"/> б) к оперативно-тактическим; <input type="radio"/> в) к оперативным; <input checked="" type="radio"/> г) к общей оценке местности	2	1
6	В каких случаях карта не поможет в ориентировании на местности? <input checked="" type="radio"/> а) в сильном тумане; <input type="radio"/> б) в городе; <input type="radio"/> в) на берегу реки;	2	2
7	Глубина указывается на топографических знаках, обозначающих: <input type="radio"/> а) такыры; <input type="radio"/> б) солончаки непроходимые; <input type="radio"/> в) солончаки проходимые; <input checked="" type="radio"/> г) болота непроходимые;	2	2
8	Наиболее эффективным при тушении пожара класса «С» являются: <input type="radio"/> а) воздушно-эмульсионные огнетушители; <input type="radio"/> б) водные огнетушители; <input checked="" type="radio"/> в) воздушно-пенные огнетушители; <input checked="" type="radio"/> г) порошковые огнетушители	2	1
9	К ручному немеханизированному пожарному инструменту относится: <input checked="" type="radio"/> а) пневмомолоток; <input type="radio"/> б) багор; <input checked="" type="radio"/> в) цепная пила по дереву;	2	1
10	Мошенничество с использованием электронных средств платежа является преступлением: <input type="radio"/> а) в сфере компьютерной информации; <input type="radio"/> б) против порядка управления; <input type="radio"/> в) против собственности; <input checked="" type="radio"/> г) в сфере экономической деятельности	2	1
Количество баллов		max 20	

Оценочные баллы: максимально – 20 баллов;

фактически набранные баллы за Блок тестирования - 8.

Подпись председателя жюри

Подписи членов жюри

С.С. Тихонов
А.А. Сидорова